


1. Hoeveel euro krijg je terug?



€20



€30



€25



€35



2. Bij welk huisnummer zit de haas verstopt?



10



8



12



11



3. Hoe laat ontbijten we?




kwart over 8



kwart voor 9



kwart voor 8



kwart voor 7



4. Hoeveel moet je betalen?



€12



€10



€14



€13



**5. Over een uur begint de lunch.
Hoe laat is het dan?**



12 uur



half 2



half 1



1 uur



6. Hoeveel moet je betalen?



€30



€25




€20



€15



7. Welk dier weegt het minste?





duif



haan



biggetje



egel



8. Je koopt 2 glazen limonade, een stuk appeltaart en een plak cake. Hoeveel moet je betalen?

Prijzen			
Koffie	€2,00	Paaseitjes	€2,00
Thee	€2,00	Cake	€2,00
Limonade	€2,00	Appeltaart	€4,00
Frisdrank	€3,00	Tompouce	€3,00


€6




€10




€8



€12



9. Welk getal hoort op het lege paasei te staan?



€20




€22



€21



€19



10. Hoeveel euro krijg je terug?



€15



€20



€10



€5



11. Hoeveel moet je betalen?




€34



€25



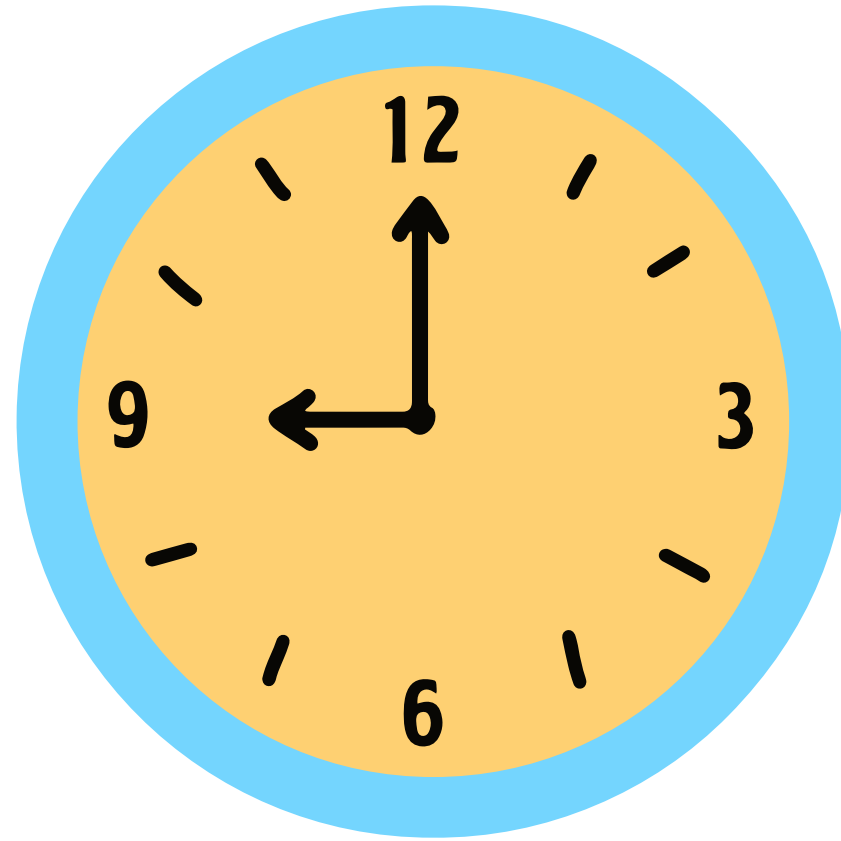
€36



€35



**12. Over een half uur mogen de broodjes
in de oven. Hoe laat is het dan?**




half 9



10 uur



half 10



half 8



13. Bij welk huisnummer zit de haas verstoopt?



46



54



44



42



14. Ik koop 6 zakjes. Hoeveel betaal ik?



€9



€18



€16



€12



15. Hoeveel eieren heb ik nodig om vier mandjes te vullen?



20



15




25



16



16. Hoeveel moet ik betalen?



€30



€40



€25




€35



17. Welk dier weegt het meest?




lammetje



pauw



struisvogel



vos




18. Hoeveel geld moet ik nog betalen?



€15



€21



€20



€11



19. Over een half uur gaat het regenen.
Hoe laat is het dan?



half 3



4 uur



half 2



half 4



20. Hoeveel paarse tulpen heb ik nodig om vier boeketten te maken?



12



8



14



9

