

Opdracht 1

De kerstman koopt voor Bram twee cadeautjes. Hoeveel kost dit samen?



€20



€7

Opdracht 2

Het gezin Bakker is op de kerstmarkt en stoppen bij een kraam voor wat lekkers. Ze willen graag twee keer koffie, twee keer limonade en vier kerstkoekjes. Hoeveel moeten ze betalen?


Prijzen

Koffie	€2,00	Muffin	€3,00
Thee	€2,00	Kerstkoekje	€2,00
Limonade	€2,00	Appelcake	€2,00
Chocomelk	€3,00	Appelflap	€4,00

Opdracht 3

De slee zit al vol met cadeautjes. Hij mag niet te zwaar worden. Er mag nog 1 kilo bij. Welk cadeautje kan nog in de slee?


Cadeautje 1: step



Cadeautje 2: basketbal



Cadeautje 3: gereedschapskist



Opdracht 4

Eén van de elfen heeft kerstkoekjes gemaakt. Voordat ze in de winkel kunnen worden gelegd moeten ze worden ingepakt. De elf heeft 60 koekjes gebakken. In elke doos passen 10 koekjes. Hoeveel dozen heeft de elf nodig?



Opdracht 5

Lisanne koopt op de kerstmarkt een cadeau. Ze wil met zo weinig mogelijk munten en biljetten betalen. De onderstaande munten en biljetten heeft ze in haar portemonnee. Welke munten en biljetten moet ze uitgeven?



Opdracht 6

Juf Roos wil voor haar klas kerstmutsen kopen. Ze heeft twintig kinderen in de klas. In elk pakje zitten vijf kerstmutsen. Hoeveel pakjes moet Juf Roos kopen?



Opdracht 7

Sandra wil thuis graag de kerstboom opzetten. Ze heeft nog een boom nodig. Daarnaast koopt ze ook nog ballen om de boom te versieren. Hoeveel moet Sandra in totaal betalen?



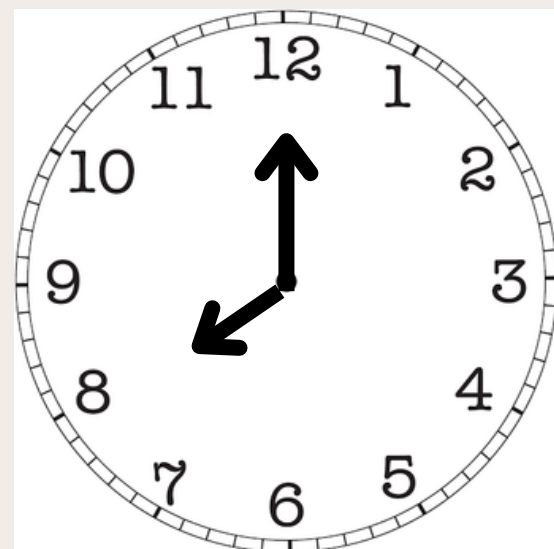
€70



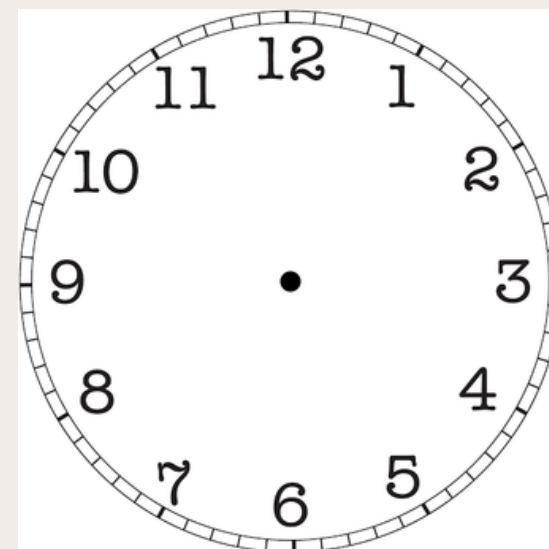
€8

Opdracht 8

Vanavond worden er cadeautjes bezorgd. De kerstman vertrekt om 8 uur. Hij verwacht dat hij er vier uur over doet om alle cadeautjes te bezorgen. Daarna kan hij weer terug naar zijn huis in het kerstdorp. Hoe laat is de kerstman weer terug?



Vertrektijd



Aankomsttijd

Opdracht 9

Eén van de elfen doet vandaag kerstinkopen. Hij koopt een hobbelpaard voor Lise. Aangezien de elf een vaste klant is, krijgt hij 5 euro korting. Hoeveel moet hij nog betalen?



Opdracht 10

De kerstman is bij Max en Lisa thuis geweest. Hij heeft in totaal 18 cadeautjes bezorgd. Max en Lisa krijgen evenveel cadeautjes. Hoeveel cadeautjes krijgen ze per persoon?



Opdracht 11

Het is vandaag maandag 18 december. Op 25 december is het Eerste Kerstdag.

Hoeveel dagen duurt het nog voordat het 25 december is?

December 2023

Zondag	Maandag	Dinsdag	Woensdag	Donnerdag	Vrijdag	Zaterdag
					1	2
3	4	5	6	7	8	9
10	11	12	13	14	15	16
17	18	19	20	21	22	23
24	25	26	27	28	29	30
31						

@MichelZbinden.com

Michel Zbinden / Kalender 48ZZ

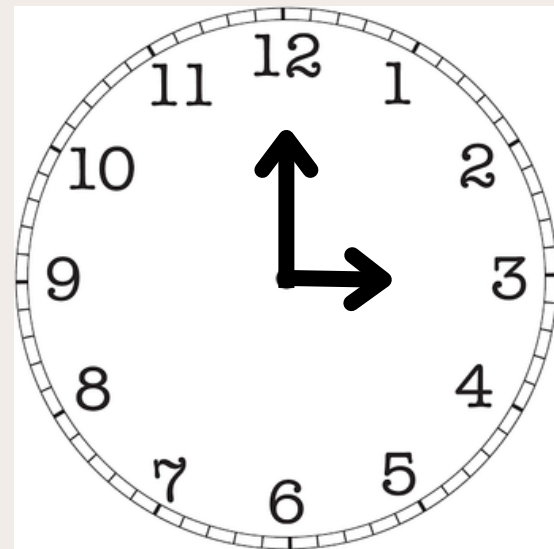
Opdracht 12

Stefan heeft de kerstboom opgezet en versierd met 50 glazen kerstballen. De hond van Stefan kwam na het uitlaten enthousiast binnen en stootte tegen de boom aan. De helft van de kerstballen vielen kapot op de grond. Hoeveel ballen hangen er nu nog in de kerstboom van Stefan?

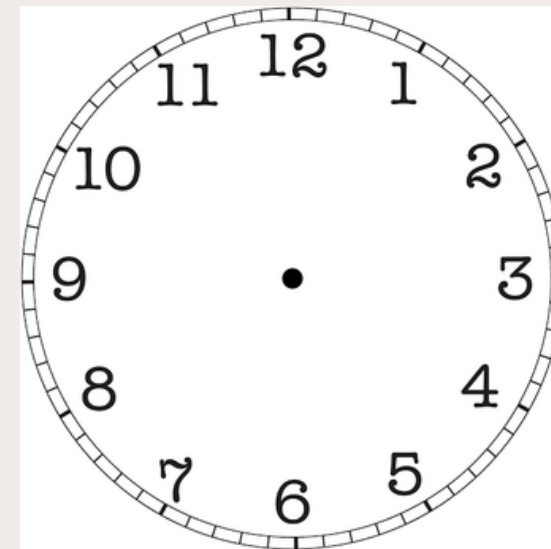


Opdracht 13

Mirjam en Lise bakken kerstkoekjes. Om 3 uur gaan de koekjes in de oven. Ze moeten er een half uur in. Hoe laat mogen de koekjes uit de oven?



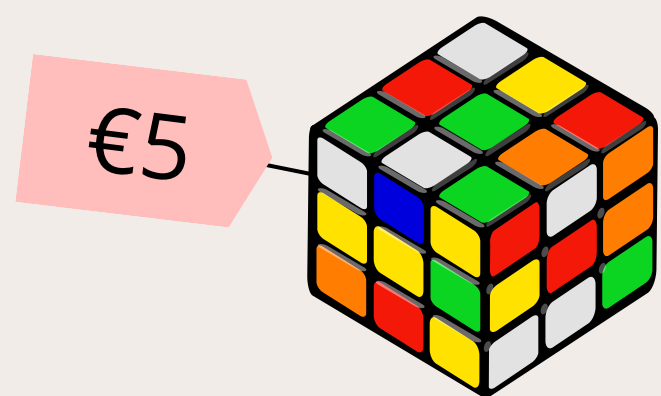
Begintijd



Eindtijd

Opdracht 14

De Kerstman koopt voor Milan kerstcadeautjes. In totaal mag hij maximaal 20 euro uitgeven. Het bedrag hoeft niet op, maar de Kerstman wil wel zo veel mogelijk van het geld gebruiken. Welke cadeautjes kan hij van dat geld kopen?



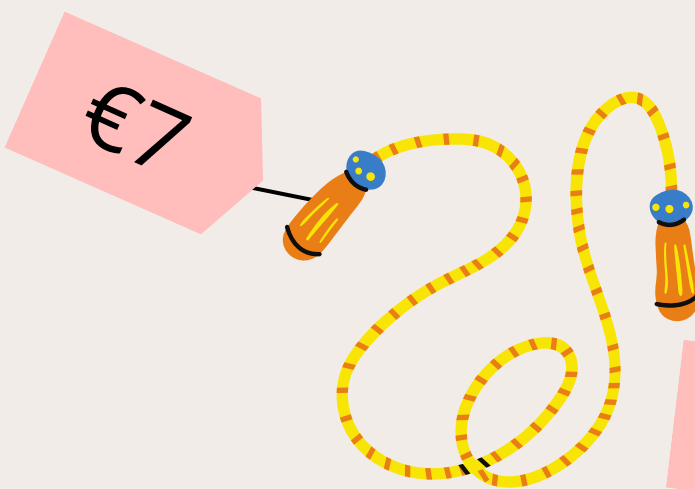
€5

Cadeautje 1




€11

Cadeautje 2




€7

Cadeautje 3



€10

Cadeautje 4



€14

Cadeautje 3

Opdracht 15

De kerstman heeft 24 rendieren om de slee te trekken. De rendieren staan altijd in twee rijen voor de slee. Hoeveel rendieren staan er in elke rij?

